

Analisi Matematica II
Corso di Ingegneria Gestionale
Compito A del 05-06-2018

- È obbligatorio consegnare tutti i fogli, anche la brutta e il testo.
- Le risposte senza giustificazione sono considerate nulle.

Esercizio 1. (13 punti) Data la funzione

$$f(x, y) = 2x^2 + \sqrt{x^4 + 4y^4}$$

- i) determinare in quali punti del dominio naturale è differenziabile;
- ii) determinare massimo e minimo di $f(x, y)$ su

$$\Omega = \left\{ (x, y) \in \mathbb{R}^2 : x \leq \frac{1}{\sqrt{2}}, x^2 + y^2 \leq 1 \right\}.$$

Esercizio 2. (8 punti) Data la curva (γ, I) , con $I = [0, 2]$ e parametrizzazione

$$\gamma : [0, 2] \rightarrow \mathbb{R}^2, \quad \gamma(t) = (t + 1 + \sin(\pi t^4), t + 1)$$

- i) scrivere l'equazione cartesiana della retta tangente al sostegno della curva nel punto $P = (2, 2)$;
- ii) calcolare il lavoro lungo (γ, I) del campo di vettori

$$\mathbf{F}(x, y) = \begin{pmatrix} \frac{1}{\sqrt{x}} + \frac{x}{x^2+y^2} \\ 1 + \frac{y}{x^2+y^2} \end{pmatrix}$$

Esercizio 3. (12 punti) Data la superficie

$$\Sigma = \{(x, y, z) \in \mathbb{R}^3 : x^2 + y^2 + z^4 - 2z^3 = 0\}$$

- i) scrivere l'equazione cartesiana del piano tangente a Σ nel punto $P = \left(\frac{1}{\sqrt{2}}, \frac{1}{\sqrt{2}}, 1\right)$;
- ii) fare un disegno approssimativo di Σ ;
- iii) calcolare l'integrale triplo

$$\iiint_V \frac{x}{x^2 + y^2} dx dy dz$$

dove

$$V = \{(x, y, z) \in \mathbb{R}^3 : x^2 + y^2 + z^4 - 2z^3 \leq 0, y \geq 1\}$$

Svolgimento

Esercizio 1. Data la funzione

$$f(x, y) = 2x^2 + \sqrt{x^4 + 4y^4}$$

i) determinare in quali punti del dominio naturale è differenziabile;

Il dominio naturale della funzione è \mathbb{R}^2 e $f(x, y)$ si può scrivere come somma della funzione $g(x, y) = 2x^2$ e della composizione delle funzioni $h(t) = \sqrt{t}$ e $p(x, y) = x^4 + 4y^4$. Le funzioni g e p sono differenziabili su tutto il loro dominio naturale, e h è differenziabile in $\mathbb{R} \setminus \{0\}$. Dunque possiamo concludere dai teoremi di carattere generale che la funzione f è certamente differenziabile in $\mathbb{R}^2 \setminus \{x^4 + 4y^4 = 0\} = \mathbb{R}^2 \setminus \{(0, 0)\}$.

Rimane da studiare la differenziabilità in $(0, 0)$. Iniziamo studiando l'esistenza delle derivate parziali di f . Si trova

$$\frac{\partial f}{\partial x}(0, 0) = \lim_{t \rightarrow 0} \frac{f(t, 0) - f(0, 0)}{t} = \lim_{t \rightarrow 0} \frac{2t^2 + \sqrt{t^4}}{t} = 0$$

$$\frac{\partial f}{\partial y}(0, 0) = \lim_{t \rightarrow 0} \frac{f(0, t) - f(0, 0)}{t} = \lim_{t \rightarrow 0} \frac{\sqrt{4t^4}}{t} = 0$$

Dobbiamo poi vedere se

$$\lim_{(x,y) \rightarrow (0,0)} \frac{f(x, y) - f(0, 0) - \frac{\partial f}{\partial x}(0, 0)x - \frac{\partial f}{\partial y}(0, 0)y}{\sqrt{x^2 + y^2}} = 0.$$

Sostituendo i valori della funzione e delle sue derivate parziali, si ottiene che dobbiamo studiare

$$\lim_{(x,y) \rightarrow (0,0)} \frac{2x^2 + \sqrt{x^4 + 4y^4}}{\sqrt{x^2 + y^2}}$$

Provando a scrivere il limite come somma dei limiti

$$\lim_{(x,y) \rightarrow (0,0)} \frac{2x^2}{\sqrt{x^2 + y^2}} + \lim_{(x,y) \rightarrow (0,0)} \frac{\sqrt{x^4 + 4y^4}}{\sqrt{x^2 + y^2}}$$

otteniamo che il primo termine tende a 0, usando $2x^2 \leq 2(x^2 + y^2)$ per scrivere

$$0 \leq \left| \frac{2x^2}{\sqrt{x^2 + y^2}} \right| \leq 2\sqrt{x^2 + y^2}$$

e applicando il Teorema del Confronto.

Per il secondo termine usiamo invece la disuguaglianza $\sqrt{a^2 + b^2} \leq a + b$ con $a = x^2$ e $b = 2y^2$, da cui otteniamo

$$0 \leq \left| \frac{\sqrt{x^4 + 4y^4}}{\sqrt{x^2 + y^2}} \right| \leq \frac{x^2 + 2y^2}{\sqrt{x^2 + y^2}} \leq 2\sqrt{x^2 + y^2}$$

e quindi applicando il Teorema del Confronto troviamo che anche il secondo termine tende a 0.

Possiamo quindi giustificare le operazioni

$$\lim_{(x,y) \rightarrow (0,0)} \frac{2x^2 + \sqrt{x^4 + 4y^4}}{\sqrt{x^2 + y^2}} = \lim_{(x,y) \rightarrow (0,0)} \frac{2x^2}{\sqrt{x^2 + y^2}} + \lim_{(x,y) \rightarrow (0,0)} \frac{\sqrt{x^4 + 4y^4}}{\sqrt{x^2 + y^2}} = 0$$

e dunque la funzione f risulta essere differenziabile anche in $(0, 0)$.

ii) determinare massimo e minimo di $f(x, y)$ su

$$\Omega = \left\{ (x, y) \in \mathbb{R}^2 : x \leq \frac{1}{\sqrt{2}}, x^2 + y^2 \leq 1 \right\}.$$

L'insieme Ω è rappresentato nella figura 1.

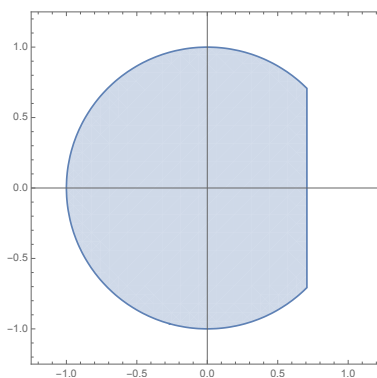


Figure 1: L'insieme Ω .

Per studiare massimo e minimo assoluto di f su Ω dobbiamo considerare i valori che la funzione assume su eventuali punti di non differenziabilità, sui punti critici liberi interni a Ω , sui punti critici vincolati al bordo di Ω e sugli eventuali spigoli del bordo.

Nel punto precedente abbiamo determinato che la funzione f è differenziabile in tutto \mathbb{R}^2 . Nei punti $(x, y) \neq (0, 0)$ possiamo calcolare il gradiente

$$\nabla f(x, y) = \begin{pmatrix} 4x + \frac{2x^3}{\sqrt{x^4 + 4y^4}} \\ \frac{8y^3}{\sqrt{x^4 + 4y^4}} \end{pmatrix}$$

da cui si ricava che non ci sono punti critici liberi per $(x, y) \neq (0, 0)$. Inoltre in $(0, 0)$ abbiamo trovato che il gradiente si annulla, e quindi

$$C = (0, 0) \in \overset{\circ}{\Omega}$$

è il primo punto da tenere in considerazione.

Ci rimane da studiare il comportamento di f sul bordo di $\bar{\Omega}$. Gli spigoli sono i punti

$$S_1 = \begin{pmatrix} \frac{1}{\sqrt{2}} \\ \frac{1}{\sqrt{2}} \end{pmatrix} \quad S_2 = \begin{pmatrix} \frac{1}{\sqrt{2}} \\ -\frac{1}{\sqrt{2}} \end{pmatrix}.$$

La funzione f è differenziabile su tutto il bordo per quanto visto nel punto i) dell'esercizio. Il bordo lo dividiamo in due parti:

$$\Gamma_1 = \left\{ x = \frac{1}{\sqrt{2}}, -\frac{1}{\sqrt{2}} \leq y \leq \frac{1}{\sqrt{2}} \right\}$$

$$\Gamma_2 = \left\{ x^2 + y^2 = 1, x \leq \frac{1}{\sqrt{2}} \right\}.$$

Per quanto riguarda Γ_1 possiamo usare la parametrizzazione

$$\gamma_1(t) = \left(\frac{1}{\sqrt{2}}, t \right), \quad t \in \left[-\frac{1}{\sqrt{2}}, \frac{1}{\sqrt{2}} \right],$$

e componendo con f troviamo la funzione di una variabile

$$g_1(t) = f(\gamma_1(t)) = 1 + \sqrt{\frac{1}{4} + 4t^4}, \quad t \in \left[-\frac{1}{\sqrt{2}}, \frac{1}{\sqrt{2}} \right].$$

Risulta $g_1'(t) = \frac{16t^3}{1+16t^4}$, dunque si trova un punto critico per $t = 0$ che corrisponde al punto critico vincolato

$$Q_1 = \begin{pmatrix} \frac{1}{\sqrt{2}} \\ 0 \end{pmatrix}.$$

Consideriamo poi Γ_2 come insieme di livello della funzione differenziabile $G(x, y) = x^2 + y^2$. Il gradiente di G non si annulla su Γ_2 , e possiamo quindi applicare il metodo dei moltiplicatori di Lagrange, e cercare soluzioni (x, y, λ) del sistema

$$\begin{cases} 4x + \frac{2x^3}{\sqrt{x^4+4y^4}} = 2\lambda x \\ \frac{8y^3}{\sqrt{x^4+4y^4}} = 2\lambda y \\ x^2 + y^2 = 1 \\ x \leq \frac{1}{\sqrt{2}} \end{cases}$$

Analizzando la seconda equazione il sistema diventa equivalente alla seguente unione di sistemi

$$\begin{cases} 4x + \frac{2x^3}{\sqrt{x^4+4y^4}} = 2\lambda x \\ y = 0 \\ x^2 + y^2 = 1 \\ x \leq \frac{1}{\sqrt{2}} \end{cases} \quad \cup \quad \begin{cases} 4x + \frac{2x^3}{\sqrt{x^4+4y^4}} = 2\lambda x \\ y \neq 0 \\ \frac{4y^2}{\sqrt{x^4+4y^4}} = \lambda \\ x^2 + y^2 = 1 \\ x \leq \frac{1}{\sqrt{2}} \end{cases}$$

Nel primo sottosistema si trova l'unica soluzione $(x, y, \lambda) = (-1, 0, 3)$, che corrisponde al punto critico vincolato

$$Q_2 = \begin{pmatrix} -1 \\ 0 \end{pmatrix}.$$

Nel secondo sottosistema, poniamo $y^2 = 1 - x^2$ nella terza equazione e ricaviamo il valore di λ che sostituiamo nella prima equazione. La prima equazione diventa

$$4x + \frac{2x^3}{\sqrt{x^4 + 4(1 - x^2)^2}} = \frac{8x(1 - x^2)}{\sqrt{x^4 + 4(1 - x^2)^2}} \Leftrightarrow 2x\sqrt{x^4 + 4(1 - x^2)^2} = 4x - 5x^3$$

Una soluzione è $x = 0$, da cui troviamo le soluzioni $(x, y, \lambda) = (0, 1, 2)$ e $(x, y, \lambda) = (0, -1, 2)$ del sistema iniziale, che corrispondono ai punti critici vincolati

$$Q_3 = \begin{pmatrix} 0 \\ 1 \end{pmatrix} \quad Q_4 = \begin{pmatrix} 0 \\ -1 \end{pmatrix}.$$

Per $x \neq 0$, l'equazione si riduce a

$$2\sqrt{x^4 + 4(1 - x^2)^2} = 4 - 5x^2 \Leftrightarrow \begin{cases} 4x^4 + 16(1 - x^2)^2 = (4 - 5x^2)^2 \\ 4 - 5x^2 \geq 0 \end{cases} \Leftrightarrow \begin{cases} x^2(8 - 5x^2) = 0 \\ 4 - 5x^2 \geq 0 \end{cases}$$

e non ci sono dunque altre soluzioni.

I valori che dobbiamo confrontare sono dunque

$$f(C) = 0, \quad f(S_1) = f(S_2) = 1 + \frac{\sqrt{5}}{2}, \quad f(Q_1) = \frac{3}{2}, \quad f(Q_2) = 3, \quad f(Q_3) = f(Q_4) = 2.$$

Dunque il massimo di f è 3 e il minimo è 0.

Esercizio 2. Data la curva (γ, I) , con $I = [0, 2]$ e parametrizzazione

$$\gamma : [0, 2] \rightarrow \mathbb{R}^2, \quad \gamma(t) = (t + 1 + \sin(\pi t^4), t + 1)$$

i) scrivere l'equazione cartesiana della retta tangente al sostegno della curva nel punto

$P = (2, 2)$;

La parametrizzazione $\gamma(t)$ è di classe C^1 , quindi la retta tangente al sostegno della curva esiste in tutti i punti che corrispondono ai valori del parametro $t \in (0, 2)$ per cui $\gamma'(t) \neq 0$. In particolare per $P = (2, 2)$ troviamo innanzitutto $t_0 \in (0, 2)$ tale che $\gamma(t_0) = P$, quindi risolviamo il sistema

$$\begin{cases} t_0 + 1 + \sin(\pi t_0^4) = 2 \\ t_0 + 1 = 2 \end{cases}$$

Si ottiene facilmente $t_0 = 1$, e quindi la retta tangente al sostegno nel punto P è generata dal vettore velocità

$$\gamma'(t_0) = \begin{pmatrix} 1 + 4\pi t_0^3 \cos(\pi t_0^4) \\ 1 \end{pmatrix} = \begin{pmatrix} 1 - 4\pi \\ 1 \end{pmatrix}$$

e un vettore normale al sostegno nel punto P è quindi

$$\vec{n} = \begin{pmatrix} 1 \\ 4\pi - 1 \end{pmatrix}$$

L'equazione cartesiana cercata è allora

$$(x - 2) + (4\pi - 1)(y - 2) = 0.$$

ii) calcolare il lavoro lungo (γ, I) del campo di vettori

$$\mathbf{F}(x, y) = \begin{pmatrix} \frac{1}{\sqrt{x}} + \frac{x}{x^2+y^2} \\ 1 + \frac{y}{x^2+y^2} \end{pmatrix}$$

Studiamo innanzitutto le proprietà del campo \mathbf{F} . Il suo dominio naturale è $X = \{x > 0\}$ e

$$\text{rot}(\mathbf{F})(x, y) = \frac{\partial F_2}{\partial x}(x, y) - \frac{\partial F_1}{\partial y}(x, y) = 0.$$

Quindi il campo \mathbf{F} è irrotazionale. Il dominio naturale X è semplicemente connesso, e dunque \mathbf{F} è conservativo su X .

Studiamo le proprietà della curva (γ, I) . La curva non è chiusa, essendo $\gamma(0) = (1, 1) \neq \gamma(2) = (3, 3)$, e il sostegno disegnato in figura 2 è contenuto interamente nel dominio del campo. Per il

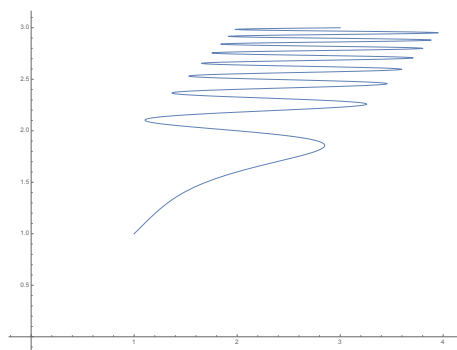


Figure 2: Il sostegno della curva (γ, I) .

calcolo del lavoro abbiamo due possibilità. La prima è cercare un potenziale $f(x, y)$ del campo e scrivere

$$L(\mathbf{F}, \gamma) = f(3, 3) - f(1, 1).$$

Un potenziale è la funzione

$$f(x, y) = 2\sqrt{x} + y + \frac{1}{2} \log(x^2 + y^2)$$

da cui

$$L(\mathbf{F}, \gamma) = 2\sqrt{3} + 3 + \frac{1}{2} \log(18) - 2 - 1 - \frac{1}{2} \log(2) = 2\sqrt{3} + \log 3.$$

La seconda è definire una curva $\tilde{\gamma} : [a, b] \rightarrow \mathbb{R}^2$ di classe C^1 , con sostegno contenuto in X e con punto iniziale in $(1, 1)$ e punto finale in $(3, 3)$, e usare che $L(\mathbf{F}, \gamma) = L(\mathbf{F}, \tilde{\gamma})$. Un esempio è la curva

$$\tilde{\gamma} : [1, 3] \rightarrow \mathbb{R}^2, \quad \gamma(t) = \begin{pmatrix} t \\ t \end{pmatrix}$$

per la quale si trova

$$\begin{aligned} L(\mathbf{F}, \gamma) &= L(\mathbf{F}, \tilde{\gamma}) = \int_1^3 \left\langle \begin{pmatrix} \frac{1}{\sqrt{t}} + \frac{1}{2t} \\ 1 + \frac{1}{2t} \end{pmatrix}, \begin{pmatrix} 1 \\ 1 \end{pmatrix} \right\rangle dt = \\ &= \int_1^3 \left(\frac{1}{\sqrt{t}} + \frac{1}{t} + 1 \right) dt = \left(2\sqrt{t} + t + \log t \right) \Big|_1^3 = 2\sqrt{3} + \log 3. \end{aligned}$$

Esercizio 3. *Data la superficie*

$$\Sigma = \{(x, y, z) \in \mathbb{R}^3 : x^2 + y^2 + z^4 - 2z^3 = 0\}$$

i) scrivere l'equazione cartesiana del piano tangente a Σ nel punto $P = \left(\frac{1}{\sqrt{2}}, \frac{1}{\sqrt{2}}, 1\right)$;

Possiamo considerare Σ come insieme di livello della funzione differenziabile

$$F(x, y, z) = x^2 + y^2 + z^4 - 2z^3$$

che verifica

$$\nabla F(x, y, z) = \begin{pmatrix} 2x \\ 2y \\ 4z^3 - 6z^2 \end{pmatrix} \quad \text{e} \quad \nabla F(P) = \nabla F\left(\frac{1}{\sqrt{2}}, \frac{1}{\sqrt{2}}, 1\right) = \begin{pmatrix} \sqrt{2} \\ \sqrt{2} \\ -2 \end{pmatrix} \neq \mathbf{0}$$

Quindi P è un punto regolare per Σ , e l'equazione cartesiana del piano tangente a Σ in P è data da

$$\sqrt{2} \left(x - \frac{1}{\sqrt{2}} \right) + \sqrt{2} \left(y - \frac{1}{\sqrt{2}} \right) - 2(z - 1) = 0.$$

ii) fare un disegno approssimativo di Σ ;

Scrivendola nella forma

$$\Sigma = \{(x, y, z) \in \mathbb{R}^3 : x^2 + y^2 = 2z^3 - z^4\}$$

la superficie si può interpretare come superficie di rotazione, ottenuta facendo ruotare intorno all'asse z il grafico della funzione $g(z) = \sqrt{2z^3 - z^4}$, definita in $[0, 2]$, dunque un disegno di Σ è in figura 3.

iii) calcolare l'integrale triplo

$$\iiint_V \frac{x}{x^2 + y^2} dx dy dz$$

dove

$$V = \{(x, y, z) \in \mathbb{R}^3 : x^2 + y^2 + z^4 - 2z^3 \leq 0, y \geq 1\}$$

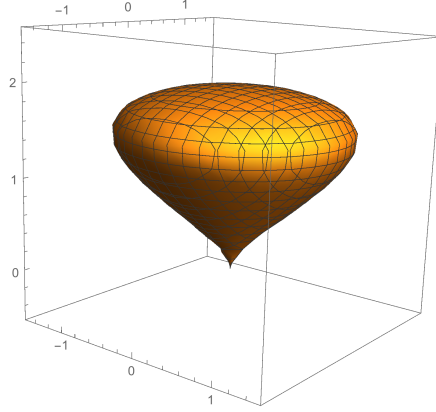


Figure 3: La superficie Σ .

L'insieme V è il solido di rotazione della forma

$$\tilde{V} = \{(x, y, z) \in \mathbb{R}^3 : a \leq z \leq b, x^2 + y^2 \leq g^2(z)\}$$

dove $a = 0$, $b = 2$ e $g(z) = \sqrt{2z^3 - z^4}$, intersecato con l'insieme $\{y \geq 1\}$.

Calcoliamo l'integrale triplo usando la formula di integrazione per strati, quindi

$$\iiint_V \frac{x}{x^2 + y^2} dx dy dz = \int_0^2 \left(\iint_{V_z} \frac{x}{x^2 + y^2} dx dy \right) dz$$

dove per ogni $z \in [0, 2]$

$$V_z = \{(x, y) \in \mathbb{R}^2 : x^2 + y^2 \leq g^2(z), y \geq 1\}.$$

Svolgendo quindi prima l'integrale su V_z usando le coordinate polari

$$\begin{cases} x = \rho \cos \theta \\ y = \rho \sin \theta \end{cases} \quad \text{con } (\rho, \theta) \in (0, +\infty) \times [0, 2\pi],$$

otteniamo

$$\iint_{V_z} \frac{x}{x^2 + y^2} dx dy = \iint_{S_z} \cos \theta d\rho d\theta$$

dove

$$S_z = \{(\rho, \theta) \in (0, +\infty) \times [0, 2\pi] : \rho^2 \leq g^2(z), \rho \sin \theta \geq 1\}.$$

Le due condizioni ci dicono che per ogni $z \in [0, 2]$ fissato dobbiamo imporre

$$\rho \in [0, g(z)] \quad \text{e} \quad \theta \in [0, \pi].$$

La seconda condizione per S ci dice inoltre che

$$\rho \geq \frac{1}{\sin \theta}.$$

Per ρ dobbiamo dunque mettere insieme le condizioni

$$\rho \leq g(z) \quad \text{e} \quad \rho \geq \frac{1}{\sin \theta}$$

per $\theta \in [0, \pi]$. La funzione $\frac{1}{\sin \theta}$ assume il suo minimo in $\theta = \frac{\pi}{2}$, in cui vale 1, quindi si ottiene che $S_z = \emptyset$ se $g(z) < 1$, $S_z = \{(1, \frac{\pi}{2})\}$ se $g(z) = 1$, e

$$S_z = \left\{ (\rho, \theta) \in (0, +\infty) \times [0, 2\pi] : \arcsin \frac{1}{g(z)} \leq \theta \leq \pi - \arcsin \frac{1}{g(z)}, \frac{1}{\sin \theta} \leq \rho \leq g(z) \right\} \quad \text{se } g(z) > 1.$$

Osservando che $g(z) \geq 1$ per $z \in [1, \bar{z}]$ dove \bar{z} è l'unica soluzione reale dell'equazione $z^3 - z^2 - z - 1 = 0$, si conclude che

$$\begin{aligned} \iiint_V \frac{x}{x^2 + y^2} dx dy dz &= \int_1^{\bar{z}} \left(\int_{\arcsin \frac{1}{g(z)}}^{\pi - \arcsin \frac{1}{g(z)}} \left(\int_{\frac{1}{\sin \theta}}^{g(z)} \cos \theta d\rho \right) d\theta \right) dz = \\ &= \int_1^{\bar{z}} \left(\int_{\arcsin \frac{1}{g(z)}}^{\pi - \arcsin \frac{1}{g(z)}} \rho \cos \theta \Big|_{\rho = \frac{1}{\sin \theta}}^{\rho = g(z)} d\theta \right) dz = \int_1^{\bar{z}} \left(\int_{\arcsin \frac{1}{g(z)}}^{\pi - \arcsin \frac{1}{g(z)}} \left(g(z) \cos \theta - \frac{\cos \theta}{\sin \theta} \right) d\theta \right) dz = \\ &= \int_1^{\bar{z}} (g(z) \sin \theta - \log(\sin \theta)) \Big|_{\theta = \arcsin \frac{1}{g(z)}}^{\theta = \pi - \arcsin \frac{1}{g(z)}} dz = \int_1^{\bar{z}} (1 + \log(g(z)) - 1 - \log(g(z))) dz = 0. \end{aligned}$$

Analisi Matematica II
Corso di Ingegneria Gestionale
Compito B del 05-06-2018

- È obbligatorio consegnare tutti i fogli, anche la brutta e il testo.
- Le risposte senza giustificazione sono considerate nulle.

Esercizio 1. (13 punti) Data la funzione

$$f(x, y) = y^2 + \sqrt{x^4 + \frac{1}{4}y^4}$$

- i) determinare in quali punti del dominio naturale è differenziabile;
- ii) determinare massimo e minimo di $f(x, y)$ su

$$\Omega = \left\{ (x, y) \in \mathbb{R}^2 : y \geq -\frac{1}{\sqrt{2}}, x^2 + y^2 \leq 1 \right\}.$$

Esercizio 2. (8 punti) Data la curva (γ, I) , con $I = [0, 2]$ e parametrizzazione

$$\gamma : [0, 2] \rightarrow \mathbb{R}^2, \quad \gamma(t) = (t + 2, t + 1 + \cos(\pi t^4))$$

- i) scrivere l'equazione cartesiana della retta tangente al sostegno della curva nel punto $P = (3, 1)$;
- ii) calcolare il lavoro lungo (γ, I) del campo di vettori

$$\mathbf{F}(x, y) = \begin{pmatrix} 1 + \frac{x}{x^2+y^2} \\ \frac{1}{\sqrt{y}} + \frac{y}{x^2+y^2} \end{pmatrix}$$

Esercizio 3. (12 punti) Data la superficie

$$\Sigma = \{(x, y, z) \in \mathbb{R}^3 : x^2 + y^2 + z^3 - 4z = 0, z \geq 0\}$$

- i) scrivere l'equazione cartesiana del piano tangente a Σ nel punto $P = \left(\sqrt{\frac{3}{2}}, \sqrt{\frac{3}{2}}, 1\right)$;
- ii) fare un disegno approssimativo di Σ ;
- iii) calcolare l'integrale triplo

$$\iiint_V \frac{y}{x^2 + y^2} dx dy dz$$

dove

$$V = \{(x, y, z) \in \mathbb{R}^3 : x^2 + y^2 + z^3 - 4z \leq 0, z \geq 0, x \geq \sqrt{3}\}$$

Svolgimento

Esercizio 1. Data la funzione

$$f(x, y) = y^2 + \sqrt{x^4 + \frac{1}{4}y^4}$$

i) determinare in quali punti del dominio naturale è differenziabile;

Il dominio naturale della funzione è \mathbb{R}^2 e $f(x, y)$ si può scrivere come somma della funzione $g(x, y) = y^2$ e della composizione delle funzioni $h(t) = \sqrt{t}$ e $p(x, y) = x^4 + \frac{1}{4}y^4$. Le funzioni g e p sono differenziabili su tutto il loro dominio naturale, e h è differenziabile in $\mathbb{R} \setminus \{0\}$. Dunque possiamo concludere dai teoremi di carattere generale che la funzione f è certamente differenziabile in $\mathbb{R}^2 \setminus \{x^4 + \frac{1}{4}y^4 = 0\} = \mathbb{R}^2 \setminus \{(0, 0)\}$.

Rimane da studiare la differenziabilità in $(0, 0)$. Iniziamo studiando l'esistenza delle derivate parziali di f . Si trova

$$\frac{\partial f}{\partial x}(0, 0) = \lim_{t \rightarrow 0} \frac{f(t, 0) - f(0, 0)}{t} = \lim_{t \rightarrow 0} \frac{\sqrt{t^4}}{t} = 0$$

$$\frac{\partial f}{\partial y}(0, 0) = \lim_{t \rightarrow 0} \frac{f(0, t) - f(0, 0)}{t} = \lim_{t \rightarrow 0} \frac{t^2 + \sqrt{\frac{1}{4}t^4}}{t} = 0$$

Dobbiamo poi vedere se

$$\lim_{(x, y) \rightarrow (0, 0)} \frac{f(x, y) - f(0, 0) - \frac{\partial f}{\partial x}(0, 0)x - \frac{\partial f}{\partial y}(0, 0)y}{\sqrt{x^2 + y^2}} = 0.$$

Sostituendo i valori della funzione e delle sue derivate parziali, si ottiene che dobbiamo studiare

$$\lim_{(x, y) \rightarrow (0, 0)} \frac{y^2 + \sqrt{x^4 + \frac{1}{4}y^4}}{\sqrt{x^2 + y^2}}$$

Provando a scrivere il limite come somma dei limiti

$$\lim_{(x, y) \rightarrow (0, 0)} \frac{y^2}{\sqrt{x^2 + y^2}} + \lim_{(x, y) \rightarrow (0, 0)} \frac{\sqrt{x^4 + \frac{1}{4}y^4}}{\sqrt{x^2 + y^2}}$$

otteniamo che il primo termine tende a 0, usando $y^2 \leq x^2 + y^2$ per scrivere

$$0 \leq \left| \frac{y^2}{\sqrt{x^2 + y^2}} \right| \leq \sqrt{x^2 + y^2}$$

e applicando il Teorema del Confronto.

Per il secondo termine usiamo invece la disuguaglianza $\sqrt{a^2 + b^2} \leq a + b$ con $a = x^2$ e $b = \frac{1}{2}y^2$, da cui otteniamo

$$0 \leq \left| \frac{\sqrt{x^4 + \frac{1}{4}y^4}}{\sqrt{x^2 + y^2}} \right| \leq \frac{x^2 + \frac{1}{2}y^2}{\sqrt{x^2 + y^2}} \leq \sqrt{x^2 + y^2}$$

e quindi applicando il Teorema del Confronto troviamo che anche il secondo termine tende a 0.

Possiamo quindi giustificare le operazioni

$$\lim_{(x,y) \rightarrow (0,0)} \frac{y^2 + \sqrt{x^4 + \frac{1}{4}y^4}}{\sqrt{x^2 + y^2}} = \lim_{(x,y) \rightarrow (0,0)} \frac{y^2}{\sqrt{x^2 + y^2}} + \lim_{(x,y) \rightarrow (0,0)} \frac{\sqrt{x^4 + \frac{1}{4}y^4}}{\sqrt{x^2 + y^2}} = 0$$

e dunque la funzione f risulta essere differenziabile anche in $(0, 0)$.

ii) determinare massimo e minimo di $f(x, y)$ su

$$\Omega = \left\{ (x, y) \in \mathbb{R}^2 : y \geq -\frac{1}{\sqrt{2}}, x^2 + y^2 \leq 1 \right\}.$$

L'insieme Ω è rappresentato nella figura 4.

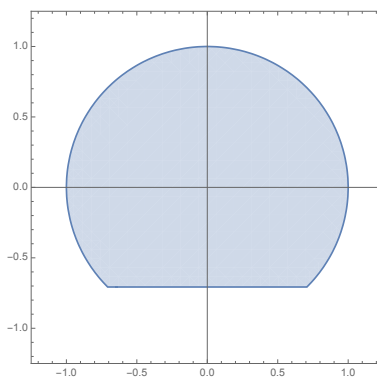


Figure 4: L'insieme Ω .

Per studiare massimo e minimo assoluto di f su Ω dobbiamo considerare i valori che la funzione assume su eventuali punti di non differenziabilità, sui punti critici liberi interni a Ω , sui punti critici vincolati al bordo di Ω e sugli eventuali spigoli del bordo.

Nel punto precedente abbiamo determinato che la funzione f è differenziabile in tutto \mathbb{R}^2 . Nei punti $(x, y) \neq (0, 0)$ possiamo calcolare il gradiente

$$\nabla f(x, y) = \left(\begin{array}{c} \frac{4x^3}{\sqrt{x^4 + \frac{1}{4}y^4}} \\ 2y + \frac{y^3}{\sqrt{x^4 + \frac{1}{4}y^4}} \end{array} \right)$$

da cui si ricava che non ci sono punti critici liberi per $(x, y) \neq (0, 0)$. Inoltre in $(0, 0)$ abbiamo trovato che il gradiente si annulla, e quindi

$$C = (0, 0) \in \overset{\circ}{\Omega}$$

è il primo punto da tenere in considerazione.

Ci rimane da studiare il comportamento di f sul bordo di $\bar{\Omega}$. Gli spigoli sono i punti

$$S_1 = \begin{pmatrix} \frac{1}{\sqrt{2}} \\ -\frac{1}{\sqrt{2}} \end{pmatrix} \quad S_2 = \begin{pmatrix} -\frac{1}{\sqrt{2}} \\ -\frac{1}{\sqrt{2}} \end{pmatrix}.$$

La funzione f è differenziabile su tutto il bordo per quanto visto nel punto i) dell'esercizio. Il bordo lo dividiamo in due parti:

$$\Gamma_1 = \left\{ y = -\frac{1}{\sqrt{2}}, -\frac{1}{\sqrt{2}} \leq x \leq \frac{1}{\sqrt{2}} \right\}$$

$$\Gamma_2 = \left\{ x^2 + y^2 = 1, y \geq -\frac{1}{\sqrt{2}} \right\}.$$

Per quanto riguarda Γ_1 possiamo usare la parametrizzazione

$$\gamma_1(t) = \left(t, -\frac{1}{\sqrt{2}} \right), \quad t \in \left[-\frac{1}{\sqrt{2}}, \frac{1}{\sqrt{2}} \right],$$

e componendo con f troviamo la funzione di una variabile

$$g_1(t) = f(\gamma_1(t)) = \frac{1}{2} + \sqrt{\frac{1}{16} + t^4}, \quad t \in \left[-\frac{1}{\sqrt{2}}, \frac{1}{\sqrt{2}} \right].$$

Risulta $g_1'(t) = \frac{8t^3}{1+16t^4}$, dunque si trova un punto critico per $t = 0$ che corrisponde al punto critico vincolato

$$Q_1 = \begin{pmatrix} 0 \\ -\frac{1}{\sqrt{2}} \end{pmatrix}.$$

Consideriamo poi Γ_2 come insieme di livello della funzione differenziabile $G(x, y) = x^2 + y^2$. Il gradiente di G non si annulla su Γ_2 , e possiamo quindi applicare il metodo dei moltiplicatori di Lagrange, e cercare soluzioni (x, y, λ) del sistema

$$\begin{cases} \frac{4x^3}{\sqrt{x^4 + \frac{1}{4}y^4}} = 2\lambda x \\ 2y + \frac{y^3}{\sqrt{x^4 + \frac{1}{4}y^4}} = 2\lambda y \\ x^2 + y^2 = 1 \\ y \geq -\frac{1}{\sqrt{2}} \end{cases}$$

Analizzando la prima equazione il sistema diventa equivalente alla seguente unione di sistemi

$$\begin{cases} x = 0 \\ 2y + \frac{y^3}{\sqrt{x^4 + \frac{1}{4}y^4}} = 2\lambda y \\ x^2 + y^2 = 1 \\ y \geq -\frac{1}{\sqrt{2}} \end{cases} \quad \cup \quad \begin{cases} x \neq 0 \\ \frac{2x^2}{\sqrt{x^4 + \frac{1}{4}y^4}} = \lambda \\ 2y + \frac{y^3}{\sqrt{x^4 + \frac{1}{4}y^4}} = 2\lambda y \\ x^2 + y^2 = 1 \\ y \geq -\frac{1}{\sqrt{2}} \end{cases}$$

Nel primo sottosistema si trova l'unica soluzione $(x, y, \lambda) = (0, 1, 2)$, che corrisponde al punto critico vincolato

$$Q_2 = \begin{pmatrix} 0 \\ 1 \end{pmatrix}.$$

Nel secondo sottosistema, poniamo $x^2 = 1 - y^2$ nella seconda equazione e ricaviamo il valore di λ che sostituiamo nella terza equazione. La terza equazione diventa

$$2y + \frac{y^3}{\sqrt{(1-y^2)^2 + \frac{1}{4}y^4}} = \frac{4y(1-y^2)}{\sqrt{(1-y^2)^2 + \frac{1}{4}y^4}} \Leftrightarrow 2y\sqrt{(1-y^2)^2 + \frac{1}{4}y^4} = 4y - 5y^3$$

Una soluzione è $y = 0$, da cui troviamo le soluzioni $(x, y, \lambda) = (-1, 0, 2)$ e $(x, y, \lambda) = (1, 0, 2)$ del sistema iniziale, che corrispondono ai punti critici vincolati

$$Q_3 = \begin{pmatrix} -1 \\ 0 \end{pmatrix} \quad Q_4 = \begin{pmatrix} 1 \\ 0 \end{pmatrix}.$$

Per $y \neq 0$, l'equazione si riduce a

$$2\sqrt{(1-y^2)^2 + \frac{1}{4}y^4} = 4-5y^2 \Leftrightarrow \begin{cases} 4(1-y^2)^2 + y^4 = (4-5y^2)^2 \\ 4-5y^2 \geq 0 \end{cases} \Leftrightarrow \begin{cases} 5y^4 - 8y^2 + 3 = 0 \\ 4-5y^2 \geq 0 \end{cases}$$

le cui soluzioni sono $y = \pm\sqrt{\frac{3}{5}}$. Nel sistema iniziale troviamo quindi la soluzione $(x, y, \lambda) = (\sqrt{\frac{2}{5}}, \sqrt{\frac{3}{5}}, \frac{8}{5})$, scartando il caso $y = -\sqrt{\frac{3}{5}}$ poiché $-\sqrt{\frac{3}{5}} < -\sqrt{\frac{1}{2}}$. Troviamo quindi il punto critico

$$Q_5 = \begin{pmatrix} \sqrt{\frac{2}{5}} \\ \sqrt{\frac{3}{5}} \end{pmatrix}.$$

I valori che dobbiamo confrontare sono dunque

$$f(C) = 0, \quad f(S_1) = f(S_2) = \frac{1}{2} + \frac{\sqrt{5}}{4}, \quad f(Q_1) = \frac{3}{4}, \quad f(Q_2) = \frac{3}{2}, \quad f(Q_3) = f(Q_4) = 1, \quad f(Q_5) = \frac{11}{10}.$$

Dunque il massimo di f è $\frac{3}{2}$ e il minimo è 0.

Esercizio 2. Data la curva (γ, I) , con $I = [0, 2]$ e parametrizzazione

$$\gamma : [0, 2] \rightarrow \mathbb{R}^2, \quad \gamma(t) = \left(t + 2, t + 1 + \cos(\pi t^4) \right)$$

i) scrivere l'equazione cartesiana della retta tangente al sostegno della curva nel punto $P = (3, 1)$;

La parametrizzazione $\gamma(t)$ è di classe C^1 , quindi la retta tangente al sostegno della curva esiste in tutti i punti che corrispondono ai valori del parametro $t \in (0, 2)$ per cui $\gamma'(t) \neq 0$. In particolare per $P = (3, 1)$ troviamo innanzitutto $t_0 \in (0, 2)$ tale che $\gamma(t_0) = P$, quindi risolviamo il sistema

$$\begin{cases} t_0 + 2 = 3 \\ t_0 + 1 + \cos(\pi t_0^4) = 1 \end{cases}$$

Si ottiene facilmente $t_0 = 1$, e quindi la retta tangente al sostegno nel punto P è generata dal vettore velocità

$$\gamma'(t_0) = \begin{pmatrix} 1 \\ 1 - 4\pi t_0^3 \sin(\pi t_0^4) \end{pmatrix} = \begin{pmatrix} 1 \\ 1 \end{pmatrix}$$

e un vettore normale al sostegno nel punto P è quindi

$$\vec{n} = \begin{pmatrix} 1 \\ -1 \end{pmatrix}$$

L'equazione cartesiana cercata è allora

$$(x - 3) - (y - 1) = 0.$$

ii) calcolare il lavoro lungo (γ, I) del campo di vettori

$$\mathbf{F}(x, y) = \begin{pmatrix} 1 + \frac{x}{x^2+y^2} \\ \frac{1}{\sqrt{y}} + \frac{y}{x^2+y^2} \end{pmatrix}$$

Studiamo innanzitutto le proprietà del campo \mathbf{F} . Il suo dominio naturale è $X = \{y > 0\}$ e

$$\text{rot}(\mathbf{F})(x, y) = \frac{\partial F_2}{\partial x}(x, y) - \frac{\partial F_1}{\partial y}(x, y) = 0.$$

Quindi il campo \mathbf{F} è irrotazionale. Il dominio naturale X è semplicemente connesso, e dunque \mathbf{F} è conservativo su X .

Studiamo le proprietà della curva (γ, I) . La curva non è chiusa, essendo $\gamma(0) = (2, 2) \neq \gamma(2) = (4, 4)$, e il sostegno disegnato in figura 5 è contenuto interamente nel dominio del campo. Per il calcolo del lavoro abbiamo due possibilità. La prima è cercare un potenziale $f(x, y)$ del campo e scrivere

$$L(\mathbf{F}, \gamma) = f(4, 4) - f(2, 2).$$

Un potenziale è la funzione

$$f(x, y) = x + 2\sqrt{y} + \frac{1}{2} \log(x^2 + y^2)$$

da cui

$$L(\mathbf{F}, \gamma) = 4 + 2\sqrt{4} + \frac{1}{2} \log(32) - 2 - 2\sqrt{2} - \frac{1}{2} \log(8) = 6 - 2\sqrt{2} + \log 2.$$

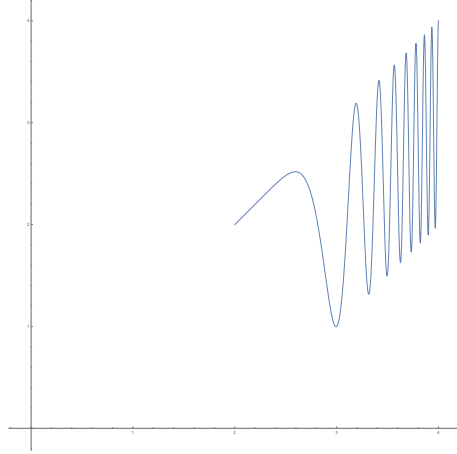


Figure 5: Il sostegno della curva (γ, I) .

La seconda è definire una curva $\tilde{\gamma} : [a, b] \rightarrow \mathbb{R}^2$ di classe C^1 , con sostegno contenuto in X e con punto iniziale in $(2, 2)$ e punto finale in $(4, 4)$, e usare che $L(\mathbf{F}, \gamma) = L(\mathbf{F}, \tilde{\gamma})$. Un esempio è la curva

$$\tilde{\gamma} : [2, 4] \rightarrow \mathbb{R}^2, \quad \gamma(t) = \left(t, t \right)$$

per la quale si trova

$$\begin{aligned} L(\mathbf{F}, \gamma) &= L(\mathbf{F}, \tilde{\gamma}) = \int_2^4 \left\langle \begin{pmatrix} 1 + \frac{1}{2t} \\ \frac{1}{\sqrt{t}} + \frac{1}{2t} \end{pmatrix}, \begin{pmatrix} 1 \\ 1 \end{pmatrix} \right\rangle dt = \\ &= \int_2^4 \left(\frac{1}{\sqrt{t}} + \frac{1}{t} + 1 \right) dt = \left(2\sqrt{t} + t + \log t \right) \Big|_2^4 = 6 - 2\sqrt{2} + \log 2. \end{aligned}$$

Esercizio 3. *Data la superficie*

$$\Sigma = \{(x, y, z) \in \mathbb{R}^3 : x^2 + y^2 + z^3 - 4z = 0, z \geq 0\}$$

i) scrivere l'equazione cartesiana del piano tangente a Σ nel punto $P = \left(\sqrt{\frac{3}{2}}, \sqrt{\frac{3}{2}}, 1 \right)$;

Possiamo considerare Σ come insieme di livello della funzione differenziabile

$$F(x, y, z) = x^2 + y^2 + z^3 - 4z$$

che verifica

$$\nabla F(x, y, z) = \begin{pmatrix} 2x \\ 2y \\ 3z^2 - 4 \end{pmatrix} \quad \text{e} \quad \nabla F(P) = \nabla F\left(\sqrt{\frac{3}{2}}, \sqrt{\frac{3}{2}}, 1\right) = \begin{pmatrix} \sqrt{6} \\ \sqrt{6} \\ -1 \end{pmatrix} \neq \mathbf{0}$$

Quindi P è un punto regolare per Σ , e l'equazione cartesiana del piano tangente a Σ in P è data da

$$\sqrt{6} \left(x - \sqrt{\frac{3}{2}} \right) + \sqrt{6} \left(y - \sqrt{\frac{3}{2}} \right) - (z - 1) = 0.$$

ii) fare un disegno approssimativo di Σ ;

Scrivendola nella forma

$$\Sigma = \left\{ (x, y, z) \in \mathbb{R}^3 : x^2 + y^2 = 4z - z^3, z \geq 0 \right\}$$

la superficie si può interpretare come superficie di rotazione, ottenuta facendo ruotare intorno all'asse z il grafico della funzione $g(z) = \sqrt{4z - z^3}$, che per $z \geq 0$ è definita in $[0, 2]$, dunque un disegno di Σ è in figura 6.

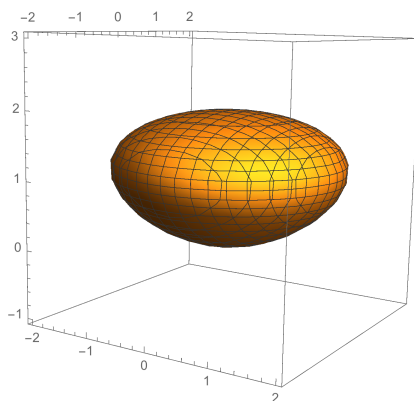


Figure 6: La superficie Σ .

iii) calcolare l'integrale triplo

$$\iiint_V \frac{y}{x^2 + y^2} dx dy dz$$

dove

$$V = \left\{ (x, y, z) \in \mathbb{R}^3 : x^2 + y^2 + z^3 - 4z \leq 0, z \geq 0, x \geq \sqrt{3} \right\}$$

L'insieme V è il solido di rotazione della forma

$$\tilde{V} = \left\{ (x, y, z) \in \mathbb{R}^3 : a \leq z \leq b, x^2 + y^2 \leq g^2(z) \right\}$$

dove $a = 0$, $b = 2$ e $g(z) = \sqrt{4z - z^3}$, intersecato con l'insieme $\{x \geq \sqrt{3}\}$.

Calcoliamo l'integrale triplo usando la formula di integrazione per strati, quindi

$$\iiint_V \frac{y}{x^2 + y^2} dx dy dz = \int_0^2 \left(\iint_{V_z} \frac{y}{x^2 + y^2} dx dy \right) dz$$

dove per ogni $z \in [0, 2]$

$$V_z = \left\{ (x, y) \in \mathbb{R}^2 : x^2 + y^2 \leq g^2(z), x \geq \sqrt{3} \right\}.$$

Svolgendo quindi prima l'integrale su V_z usando le coordinate polari

$$\begin{cases} x = \rho \cos \theta \\ y = \rho \sin \theta \end{cases} \quad \text{con } (\rho, \theta) \in (0, +\infty) \times [-\pi, \pi],$$

otteniamo

$$\iint_{V_z} \frac{y}{x^2 + y^2} dx dy = \iint_{S_z} \sin \theta d\rho d\theta$$

dove

$$S_z = \left\{ (\rho, \theta) \in (0, +\infty) \times [-\pi, \pi] : \rho^2 \leq g^2(z), \rho \cos \theta \geq \sqrt{3} \right\}.$$

Le due condizioni ci dicono che per ogni $z \in [0, 2]$ fissato dobbiamo imporre

$$\rho \in [0, g(z)] \quad \text{e} \quad \theta \in \left[-\frac{\pi}{2}, \frac{\pi}{2} \right].$$

La seconda condizione per S ci dice inoltre che

$$\rho \geq \frac{\sqrt{3}}{\cos \theta}.$$

Per ρ dobbiamo dunque mettere insieme le condizioni

$$\rho \leq g(z) \quad \text{e} \quad \rho \geq \frac{\sqrt{3}}{\cos \theta}$$

per $\theta \in [-\frac{\pi}{2}, \frac{\pi}{2}]$. La funzione $\frac{\sqrt{3}}{\cos \theta}$ assume il suo minimo in $\theta = 0$, in cui vale $\sqrt{3}$, quindi si ottiene che $S_z = \emptyset$ se $g(z) < \sqrt{3}$, $S_z = \{(\sqrt{3}, 0)\}$ se $g(z) = \sqrt{3}$, e

$$S_z = \left\{ (\rho, \theta) \in (0, +\infty) \times [-\pi, \pi] : -\arccos \frac{\sqrt{3}}{g(z)} \leq \theta \leq \arccos \frac{\sqrt{3}}{g(z)}, \frac{\sqrt{3}}{\cos \theta} \leq \rho \leq g(z) \right\} \quad \text{se } g(z) > \sqrt{3}.$$

Osservando che $g(z) \geq \sqrt{3}$ per $z \in [1, \bar{z}]$ dove $\bar{z} = \frac{\sqrt{13}-1}{2}$, si conclude che

$$\begin{aligned} \iiint_V \frac{y}{x^2 + y^2} dx dy dz &= \int_1^{\bar{z}} \left(\int_{-\arccos \frac{\sqrt{3}}{g(z)}}^{\arccos \frac{\sqrt{3}}{g(z)}} \left(\int_{\frac{\sqrt{3}}{\cos \theta}}^{g(z)} \sin \theta d\rho \right) d\theta \right) dz = \\ &= \int_1^{\bar{z}} \left(\int_{-\arccos \frac{\sqrt{3}}{g(z)}}^{\arccos \frac{\sqrt{3}}{g(z)}} \rho \sin \theta \Big|_{\rho=\frac{\sqrt{3}}{\cos \theta}}^{\rho=g(z)} d\theta \right) dz = \int_1^{\bar{z}} \left(\int_{-\arccos \frac{\sqrt{3}}{g(z)}}^{\arccos \frac{\sqrt{3}}{g(z)}} \left(g(z) \sin \theta - \sqrt{3} \frac{\sin \theta}{\cos \theta} \right) d\theta \right) dz = \\ &= \int_1^{\bar{z}} \left(-g(z) \cos \theta + \sqrt{3} \log(\cos \theta) \right) \Big|_{\theta=-\arccos \frac{\sqrt{3}}{g(z)}}^{\theta=\arccos \frac{\sqrt{3}}{g(z)}} dz = \\ &= \int_1^{\bar{z}} \left(-\sqrt{3} + \sqrt{3} \log \left(\frac{\sqrt{3}}{g(z)} \right) + \sqrt{3} - \sqrt{3} \log \left(\frac{\sqrt{3}}{g(z)} \right) \right) dz = 0. \end{aligned}$$

Analisi Matematica II
Corso di Ingegneria Gestionale
Compito C del 05-06-2018

- È obbligatorio consegnare tutti i fogli, anche la brutta e il testo.
- Le risposte senza giustificazione sono considerate nulle.

Esercizio 1. (13 punti) Data la funzione

$$f(x, y) = 2y^2 + \sqrt{4x^4 + y^4}$$

- i) determinare in quali punti del dominio naturale è differenziabile;
- ii) determinare massimo e minimo di $f(x, y)$ su

$$\Omega = \left\{ (x, y) \in \mathbb{R}^2 : y \leq \frac{1}{\sqrt{2}}, x^2 + y^2 \leq 1 \right\} .$$

Esercizio 2. (8 punti) Data la curva (γ, I) , con $I = [0, 2]$ e parametrizzazione

$$\gamma : [0, 2] \rightarrow \mathbb{R}^2, \quad \gamma(t) = (t + 2, t + 1 + \cos(\pi t^4))$$

- i) scrivere l'equazione cartesiana della retta tangente al sostegno della curva nel punto $P = (3, 1)$;
- ii) calcolare il lavoro lungo (γ, I) del campo di vettori

$$\mathbf{F}(x, y) = \begin{pmatrix} 1 + \frac{x}{x^2+y^2} \\ \frac{1}{\sqrt{y}} + \frac{y}{x^2+y^2} \end{pmatrix}$$

Esercizio 3. (12 punti) Data la superficie

$$\Sigma = \{(x, y, z) \in \mathbb{R}^3 : x^2 + y^2 + z^3 - 4z = 0, z \geq 0\}$$

- i) scrivere l'equazione cartesiana del piano tangente a Σ nel punto $P = \left(\sqrt{\frac{3}{2}}, \sqrt{\frac{3}{2}}, 1\right)$;
- ii) fare un disegno approssimativo di Σ ;
- iii) calcolare l'integrale triplo

$$\iiint_V \frac{y}{x^2 + y^2} dx dy dz$$

dove

$$V = \{(x, y, z) \in \mathbb{R}^3 : x^2 + y^2 + z^3 - 4z \leq 0, z \geq 0, x \geq \sqrt{3}\}$$

Svolgimento

Esercizio 1. Vedi Esercizio 1 del compito A (basta scambiare x e y).

Esercizio 2. Vedi Esercizio 2 del compito B

Esercizio 3. Vedi Esercizio 3 del compito B

Analisi Matematica II
Corso di Ingegneria Gestionale
Compito D del 05-06-2018

- È obbligatorio consegnare tutti i fogli, anche la brutta e il testo.
- Le risposte senza giustificazione sono considerate nulle.

Esercizio 1. (13 punti) Data la funzione

$$f(x, y) = x^2 + \sqrt{\frac{1}{4}x^4 + y^4}$$

- i) determinare in quali punti del dominio naturale è differenziabile;
- ii) determinare massimo e minimo di $f(x, y)$ su

$$\Omega = \left\{ (x, y) \in \mathbb{R}^2 : x \geq -\frac{1}{\sqrt{2}}, x^2 + y^2 \leq 1 \right\}.$$

Esercizio 2. (8 punti) Data la curva (γ, I) , con $I = [0, 2]$ e parametrizzazione

$$\gamma : [0, 2] \rightarrow \mathbb{R}^2, \quad \gamma(t) = (t + 2 + \sin(\pi t^4), t + 2)$$

- i) scrivere l'equazione cartesiana della retta tangente al sostegno della curva nel punto $P = (3, 3)$;
- ii) calcolare il lavoro lungo (γ, I) del campo di vettori

$$\mathbf{F}(x, y) = \begin{pmatrix} \frac{1}{\sqrt{x}} + \frac{x}{x^2+y^2} \\ 1 + \frac{y}{x^2+y^2} \end{pmatrix}$$

Esercizio 3. (12 punti) Data la superficie

$$\Sigma = \{(x, y, z) \in \mathbb{R}^3 : x^2 + y^2 + z^4 - 2z^3 = 0\}$$

- i) scrivere l'equazione cartesiana del piano tangente a Σ nel punto $P = \left(\frac{1}{\sqrt{2}}, \frac{1}{\sqrt{2}}, 1\right)$;
- ii) fare un disegno approssimativo di Σ ;
- iii) calcolare l'integrale triplo

$$\iiint_V \frac{x}{x^2 + y^2} dx dy dz$$

dove

$$V = \{(x, y, z) \in \mathbb{R}^3 : x^2 + y^2 + z^4 - 2z^3 \leq 0, y \geq 1\}$$

Svolgimento

Esercizio 1. Vedi Esercizio 1 del compito B (basta scambiare x e y).

Esercizio 2. Vedi Esercizio 2 del compito A (basta sommare 1 alle due componenti della parametrizzazione)

Esercizio 3. Vedi Esercizio 3 del compito A